



سلطنة عمان

وزارة التربية والتعليم

المديرية العامة للتربية والتعليم بمحافظة جنوب الشرقية
مدرسة السلطان قابوس للتعليم ما بعد الأساسي (١١ - ١٢)

ملخص هذا وطني الصف الحادي عشر الفصل الدراسي الأول

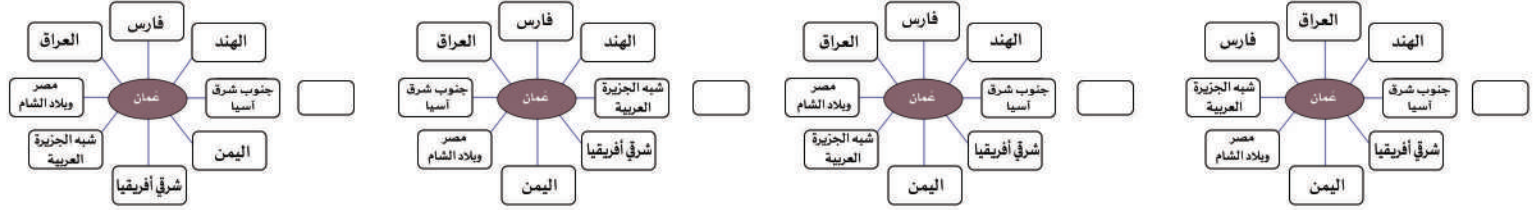
العام الدراسي : ٢٠١٩/٢٠٢٠م

ظلل الشكل () المقترن بالإجابة الصحيحة من بين البدائل المعطاة :

١- الجزء الذي يشغله إقليم عمان من لشبه الجزيرة العربية :

جنوب شرق ☐ شمال شرق ☐ شمال غرب ☐ جنوب غرب ☐

٢- الشكل الصحيح الذي يوضح الاتجاهات الجغرافية الصحيحة لحزام الحضارات القديمة المتصلة بعمان :



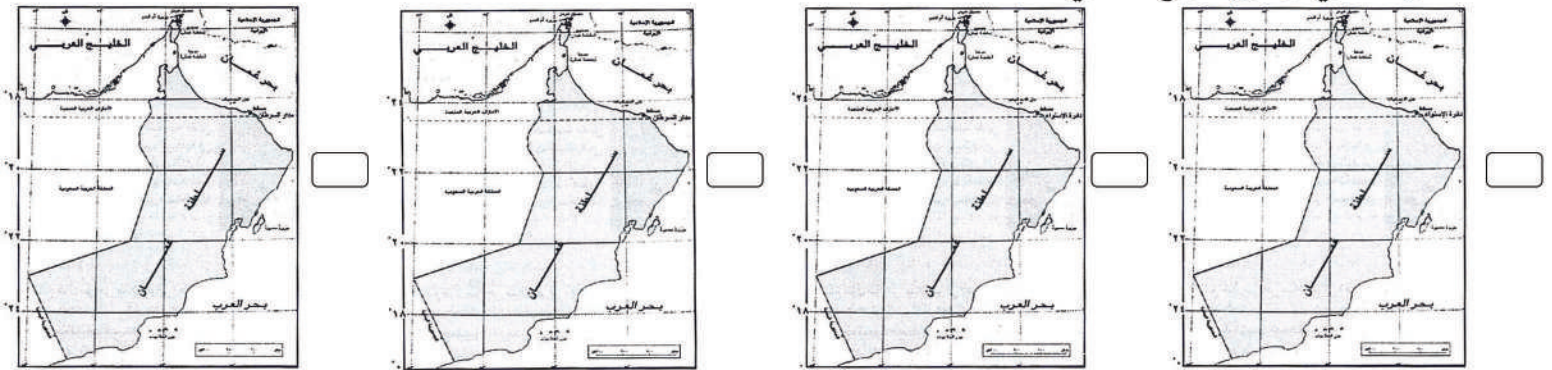
٣- يبلغ طول الساحل العماني حوالي :

٣١٥٦ كم ☐ ٣١٦٥ كم ☐ ٣٥١٦ كم ☐ ٣٦١٥ كم ☐

٤- الجهة التي تقع بها عمان بالنسبة لدائرة الإستواء :

الشمال ☐ الجنوب ☐ الشرق ☐ الغرب ☐

٥- الخريطة التي توضح الموقع الفلكي لمحافظة مسقط :



٦- جميع ما يلي محافظات يمر عليها مدار السرطان (٢٣,٥) في سلطنة عمان ما عدا :

الظاهرة ☐ مسقط ☐ جنوب الباطنة ☐ الوسطى ☐

٧- الكتاب الذي وصف فيه الموقع الجغرافي لعمان :

معجم البلدان ☐ صورة الأرض ☐ مسالك الممالك ☐ نزهة المشتاق ☐

٨- الجهة التي تقع بها عمان بالنسبة لبلاد هجر :

الشمال ☐ الجنوب ☐ الشرق ☐ الغرب ☐

٩- صاحب كتاب معجم البلدان :

المسعودي ☐ أبو حوقل ☐ ياقوت الحموي ☐ الإدريسي ☐

١٠- الممر المائي الطبيعي الذي تشرف عليه سلطنة عمان :

مضيق جبل طارق ☐ مضيق هرمز ☐ مضيق جبل طارق ☐ قناة السويس ☐

ملخص الموقع

الفلكي

- تقع السلطنة شمال دائرة الإستواء (وضعها ضمن المنطقة المدارية)
- مرور مدار السرطان على بعض المحافظات يؤدي إلى ارتفاع درجات الحرارة في فصل الصيف
- مرور (١٠) دوائر عرض اسهم في تنوع البيئات الطبيعية والمناخية.

الجغرافي

- تقع الركن الجنوبي الشرقي من شبه الجزيرة العربية .
- تحدها مسطحات مائية من ثلاث جهات (بحر العرب وبحر عمان)
- أثر طول الساحل العماني على حياة العمانيين منذ القدم .
- استفاد العمانيون من موقع بلادهم حضاريا واقتصاديا .

أهمية ومكاسب الموقع الجغرافي لعمان

اقتصادية

الاستفادة من طول السواحل العمانية وإشرافها على بحار مفتوحة

- ساعد على تطوير الأنظمة الملاحية البحرية والخبرات التجارية .
- برع العمانيين في صناعة السفن وقيادتها
- أقاموا إمبراطورية امتدت من سواحل الخليج العربي شمالاً وحتى سواحل شرقي إفريقيا جنوباً.

التحكم في شبكة التجارة والملاحة في المحيط الهندي منذ القدم

مضيق هرمز

أكسب عمان أهمية كبيرة للتجارة الدولية

حضارية

سهولة التواصل مع الحضارات والأقاليم المجاورة

العوامل الطبيعية المساعدة

الرياح الموسمية

حركة التيارات البحرية

هيات عمان لتكون محطة استراتيجية للقيام بدور بارز في التبادل التجاري بين الشرق والغرب

س - ما النتيجة المترتبة على الامتداد الطولي لسلطنة عمان في ١٠ دوائر عرضية .

ج - تنوع التظاريات والبيئات الطبيعية والمناخية

س - كيف تمكن ياقوت الحموي في كتابه معجم البلدان من وصف الموقع الجغرافي لعمان .

ج - اسم كورة عربية على ساحل بحر اليمن والهند، وتقع شرقي بلاد هجر

س - وضح كيف أثرت السواحل الطويلة لسلطنة عمان في حياة العمانيين منذ القدم .

ج - ساعد العمانيين على تطوير الأنظمة الملاحية البحرية والخبرات التجارية . فبرعوا في صناعة السفن وقيادتها

س - فسر: الامتداد العام للسلطنة طويلاً .

ج - بسبب مرور (١٠) دوائر عرض عليها

س - معرض «رسالة الإسلام من عمان»

العام	الجهة المنظمة	الهدف	الدول التي زارها المعرض
٢٠١٠ م	وزارة الأوقاف والشؤون الدينية	تعزيز قيم التسامح الديني، ونشر ثقافة التفاهم بين الأديان والثقافات المختلفة	اليابان ، والسنغال ، ورومانيا، والبرازيل .



ظل الشكل () المقترن بالإجابة الصحيحة من بين البدائل المعطاة :

١- تشكلت أرض عمان منذ حوالي :

٨٠٠٠٠٠٠٠ سنة

٨٠٠٠٠٠٠ سنة

٨٠٠٠٠٠ سنة

٨٠٠٠٠٠ سنة

- استعن بالشكل الآتي ، ثم أجب عن الأسئلة الآتية :

- أكتب الآتي :

- العصور التي تكون فيها عمان أقرب للمناطق الجليدية .

ج - الكربوني والبرمي

- العصر الذي وقعت فيه عمان على دائرة الأستواء :

ج - الطباشيري

- العصور الجيولوجية التي وقعت فيها عمان على مدار الجدي :

ج- ما قبل الكامبري والكامبري - الأردوفيسي السيلوري - الكربوني والبرمي

- فسر: تعد سلطنة عمان متحفا جيولوجيا رائعا لا يتوفر في الكثير من دول العالم

ج- بسبب مرورها بالعديد من التغيرات الجيولوجية نتيجة تغير موقعها عبر العصور الجيولوجية المختلفة .

المميزات التي اكتسبتها عمان من التنوع الجيولوجي

السياحة الجيولوجية

نتيجة التنوع الفريد الذي تتميز به المناظر الطبيعية العمانية والتميز الجيولوجي للصخور السطحية

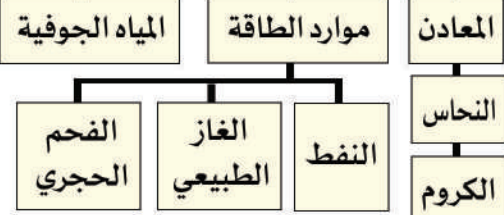


حديقة الصخور

فسر: تعتبر سلطنة عمان بيئة مناسبة لدراسة العمليات الجيولوجية التي تسهم في تشكيل سطح الأرض

بسبب وجود العديد من المواقع التي تبرز فيها الصخور القديمة على السطح مثل: صخور أفيوليت سمائل والتي وفرت الكثير المعلومات حول العمليات الجيولوجية التي حدثت وما زالت تحدث في أعماق المحيطات.

تنوع الموارد الطبيعية



صخور (أفيوليت سمائل)

الموقع	محافظة الوسطى - ولاية الدقم
أهميتها	تعد من أبرز المعالم السياحية الطبيعية في عمان، وتتميز بتكويناتها الصخرية من الحجر الجيري
الفترة الزمنية:	منذ حوالي (٤٠) مليون سنة
عوامل تكوينها:	التعرية

أهميتها	تعد أكبر مجموعة قاع محيطي في العالم تظهر على السطح . قدرتها على امتصاص غاز ثاني أكسيد الكربون المسبب لظاهرة الاحتباس الحراري
اماكن انتشارها	جبال حجر عمان
سبب ظهورها	نتيجة للحركات التكتونية المختلفة .



- فسر: وجود تباينات في مظاهر سطح الأرض في سلطنة عمان .

ج- بسبب تعدد العوامل الجيولوجية والجيومورفولوجية التي اسهمت في تشكيلها .

أولاً: السلاسل الجبلية

ظلل الشكل () المقترن بالإجابة الصحيحة من بين البدائل المعطاه :

- النسبة التي تشغلها السلاسل الجبلية من مساحة سلطنة عمان حوالي :

٥ % ☐ ١٠ % ☐ ١٥ % ☐ ٢٠ % ☐

- توجد بها أعلى قمة جبلية في عمان ، في سلسلة جبال :

مسندم ☐ الحجر الغربي ☐ الحجر الشرقي ☐ ظفار ☐

- وادي يقع في محافظة الداخلية يفصل سلسلة جبال الحجر الشرقي عن جبال الحجر الغربي :

الجزري ☐ دربات ☐ سمائل ☐ المعاول ☐



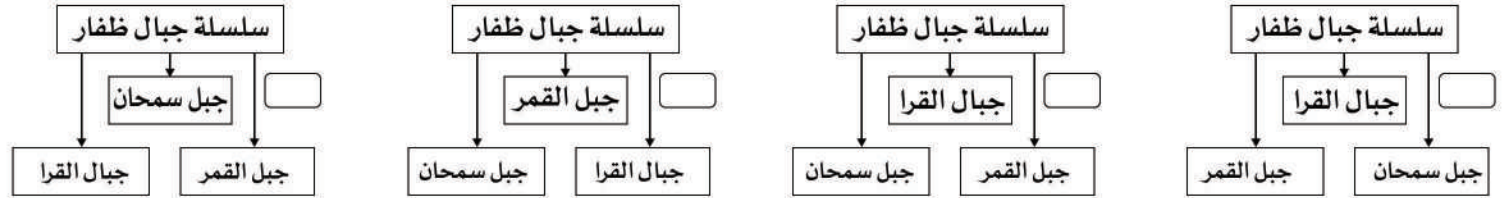
- المحمية الطبيعية التي تضم الحيوان البري المعرض للانقراض في سلطنة عمان الموضح في الشكل :

السيليل ☐ جبل سمحان ☐ جبل قهوان ☐ الجبل الأخضر ☐

- من النباتات النادرة في محمية جبل سمحان :

الععلان ☐ الأراك ☐ المشط الظفاري ☐ البوت ☐

- التوزيع الجغرافي الصحيح لسلسلة جبال ظفار :



- أعلنت منطقة جبل سمحان محمية طبيعية بموجب مرسوم السلطاني عام :

١٩٩٥ م ☐ ١٩٩٧ م ☐ ١٩٩٩ م ☐ ٢٠٠١ م ☐

- قارن بين سلسلة جبال الحجر وجبال ظفار من حيث الامتداد في الجدول الآتي :

جبال	الامتداد
الحجر	بمحاذاة بحر عُمان على شكل قوس منحن من رأس مسندم في الشمال إلى رأس الحد في الشرق
ظفار	بمحاذاة بحر العرب في جنوب عمان

- فسر: تأثر جبال الحجر الشرقي بالتعرية البحرية .

ج- بسبب قربها من بحر عمان

- أذكر بعض مظاهر السطح الناتجة عن التعرية البحرية في جبال الحجر الشرقي .

ج- الأرصفة البحرية والأقواس والكهوف

- فسر إعلان منطقة جبل سمحان كمحمية طبيعية عام ١٩٩٧ م .

ج- تضم المحمية نباتات نادرة مثل: نبات المشط الظفاري، وحيوانات برية معرضة للانقراض، مثل: النمر العربي

- أذكر أبرز العيون المائية التي تنتشر في سلسلة جبال ظفار .

ج- عين أرزات - عين حمران

ظلّل الشكل () المقترن بالإجابة الصحيحة من بين البدائل المعطاه :

- يمتد من رأس الحمراء في محافظة مسقط وحتى خطمة ملاحه في محافظة شمال الباطنة :

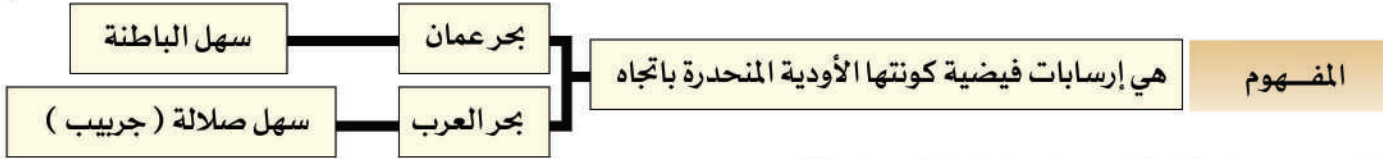
خور السوادي ☐ سهل صلالة ☐ سهل الباطنة ☐ خورشم ☐

- المشكلة البيئية التي يواجهها نشاط الزراعة في سهل الباطنة :

اجراف التربة ☐ تملح المياه الجوفية ☐ الرعي الجائر ☐ قطع الأشجار ☐

- يتميز بطقسه المعتدل في فصل الصيف نتيجة تأثير الرياح الموسمية القادمة من المحيط الهندي :

الجبل الأخضر ☐ سهل الباطنة ☐ سهل صلالة ☐ خورشم ☐



- قارن بين سهل الباطنة وسهل صلالة في الجدول الآتي :

السهل	الطول	الامتداد	الأهمية الاقتصادية	ابرز مدنه	مشكلاته البيئية
الباطنة	٢٣٧ كم	يمتد من رأس الحمراء في محافظة مسقط وحتى خطمة ملاحه في محافظة شمال الباطنة	أخصب الأراض الزراعية في عمان	صحار والسيب	تملح المياه الجوفية
صلالة	٧٠ كم	المنطقة المحصورة بين بحر العرب وجبال ظفار	منطقة زراعية منطقة جذب سياحي	صلالة مرباط وطاقة	الرعي الجائر

- فسر : يتميز سهل صلالة بطقسه المعتدل في فصل الصيف .

ج- نتيجة تأثير الرياح الموسمية القادمة من المحيط الهندي

ثالثًا: الواحات الداخلية

ظلّل الشكل () المقترن بالإجابة الصحيحة من بين البدائل المعطاه :

- انظر الخريطة ، ثم أجب عن الآتي :

- الرقم الذي يشير الى المحافظة التي تقع فيها جدة الحراسيس :

١ ☐ ٢ ☐ ٣ ☐ ٤ ☐

- الرقم الذي يشير للمحافظة التي تقع فيها مسفاة العبريين :

١ ☐ ٢ ☐ ٣ ☐ ٤ ☐

- يبلغ عدد الواحات الداخلية التي تأخذ مسمى المسفاة في عمان حوالي :

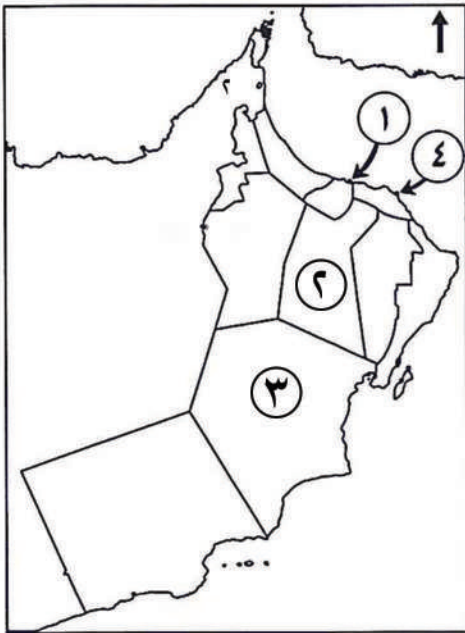
١٦ ☐ ٢٦ ☐ ٦١ ☐ ٦٢ ☐

- الشكل التضاريسي الذي يعرف محليا باسم المسفاة في سلطنة عمان :

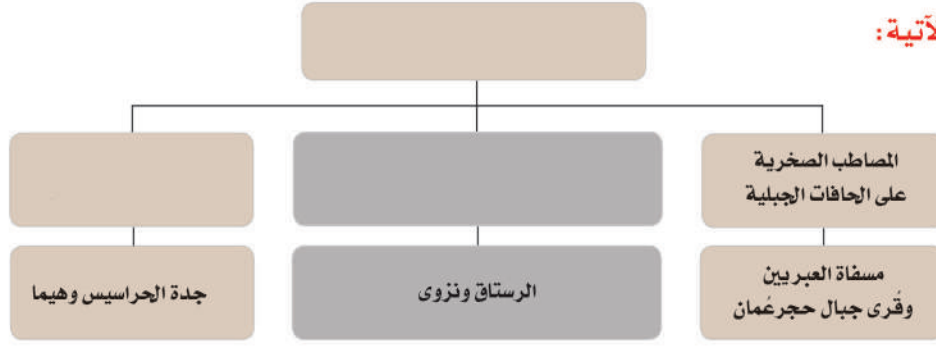
واحة ☐ سبخة ☐ خور ☐ رملة ☐

- تقع مسفاة العبريين في محافظة الداخلية في ولاية :

نزوى ☐ بهلا ☐ إزكي ☐ الحمراء ☐



- أكمل الشكل التالي ثم أجب عن الأسئلة التي الآتية :



سم الشكل التظاري الذي يوضحه الشكل .

أذكر العوامل التي اسهمت في تكوينه .

المناطق التي تنتشر فيها الكثبان الرملية بأشكالها وأنواعها

رابعاً: المناطق الرملية



المنطقة الرملية	مكان انتشارها
الحافة الشرقية لصحراء الربع الخالي	الغرب والشمال الغربي لعمان
صحراء الحقف	محافظة الوسطى
رمال الشرقية ورملة آل وهيبة	محافظة جنوب الشرقية.

- فسر: تعد منطقة الحقف المناطق الجيولوجية التي قلما نجد لها مثيلاً في العالم.

ج- لأنها تتميز بتنوع سطحها بين السهول الحصوية والكثبان الرملية بالإضافة إلى المرتفعات الجبلية المعروفة جيولوجياً باسم الحقف

المفهوم: أراض ملحية منخفضة المنسوب .

مكوناتها: رواسب رملية طينية ناعمة وترسبات ملحية، مثل: كبريتات وكلوريد الماغنيسيوم والصوديوم

خامساً: السبخات

- قارن بين أنواع السبخات في الجدول الآتي :

أنواع السبخات	العامل الطبيعي المكون لها	أمثلة
الداخلية	ناجمة نتيجة تصريف الأودية الصحراوية	سبخة أم السميم - محافظة الوسطى
الساحلية	ناجمة عن ارتفاع مستوى المد البحري	سبخات السودي على ساحل الباطنة السبخات المحصورة بين بحر العرب وجبال ظفار

سبخة أم السميم	ناجمة عن تصريف الأودية الهابطة من جبال الحجر الغربي باتجاه الجنوب، والأودية الهابطة من جبال ظفار باتجاه الشمال	- تقع في محافظة الوسطى - تبلغ مساحتها حوالي (٢٠٠٠ كم) - تتكون من طمي وأملاح
----------------	--	---



عبارة عن خلدان مائية صغيرة متصلة هي عادة بمياه البحر

سادساً: الأخوار

- قارن بين أنواع الأخوار في الجدول الآتي :

أنواع الأخوار	المفهوم	أمثلة	مميزاتها
الأخوار الدائمة	هي الأخوار المفتوحة دائماً على البحر	خور جرا - جنوب الشرقية و خور شم - مسندم و خور المغسيل - ظفار	
الأخوار المؤقتة	تمثل مصبات الأودية التي تكسر الحاجز الرمي وتصل إلى البحر مما يؤدي إلى تدفق مياه المد خلالها	خور وادي الجزي (شمال الباطنة - البريمي) و خور السودي - جنوب الباطنة و خور أرزات - ظفار	قلة الملوحة المياه ونمو أشجار المانحروف



- يقع بولاية خصب في محافظة مسندم
- يصل طوله إلى حوالي (٢٠) كم
- يعد مقصداً سياحياً للتنزه والتخييم
- تتوسطه جزيرة صغيرة تدعى جزيرة التلغراف



فتحة طبيعية في الصخر يتكون نتيجة الإذابة في الصخور الجيرية بفعل الأمطار أو بواسطة التعرية الريحية .

فسر: تأتي محافظة ظفار في المرتبة الأولى على مستوى السلطنة من حيث عدد الكهوف ← بسبب انتشار الصخور الجيرية بجبالها

استخدمها سكان المناطق الجبلية كمساكن وملاجئ آمنة لهم من تقلبات الطقس .

أهميتها

تمثل أهمية اقتصادية وسياحية

أكتب أرقام مظاهر السطح الآتية على الخريطة في المحافظة التي توجد بها :



ثامناً: الجزر

ظلل الشكل () المقترن بالإجابة الصحيحة من بين البدائل المعطاة :

١- يبلغ عدد جزر سلطنة عمان حوالي :

☐ ٢٣٩ جزيرة

☐ ٢٩٣ جزيرة

☐ ٣٢٩ جزيرة

☐ ٣٩٢ جزيرة

٢- من الجزر الصالحة للاستقرار البشري (المأهولة بالسكان) في سلطنة عمان :

☐ السوادي

☐ الخيل

☐ الحلانية

☐ الحسكية

٣- أكبر جزر السلطنة مساحة - جزيرة مصيرة - وتبلغ مساحتها حوالي :

☐ ٤٠٦ كم^٢

☐ ٤٦٠ كم^٢

☐ ٦٠٤ كم^٢

☐ ٦٤٠ كم^٢

صنف الجزر حسب صلاحيتها للاستقرار البشري في الشكل الآتي :

جزر الديمانيات (محافظة مسقط)
جزر السوادي (محافظة جنوب الباطنة)

غير مأهولة بالسكان
وغير صالحة للاستقرار البشري

جزيرة مصيرة (محافظة جنوب الشرقية)
جزيرة الحلانية (محافظة ظفار)

مأهولة بالسكان
صالحة للاستقرار البشري

جزر أم الغنم، والخيل، وسلامة وبناتها

أكبر مجموعة جزر في عمان
الجزر الموجودة حول شبه جزيرة مسندم

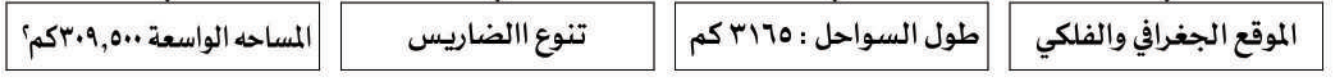
الجزر

- أعلنت كمحمية طبيعية عام ١٩٩٦ م
- تعد مركزاً مهماً لتكاثر أنواع من الطيور المهاجرة والمستوطنة
- تتميز بوجود العديد من أنواع المرجان وأسماك الشعاب المرجانية

جزر الديمانيات



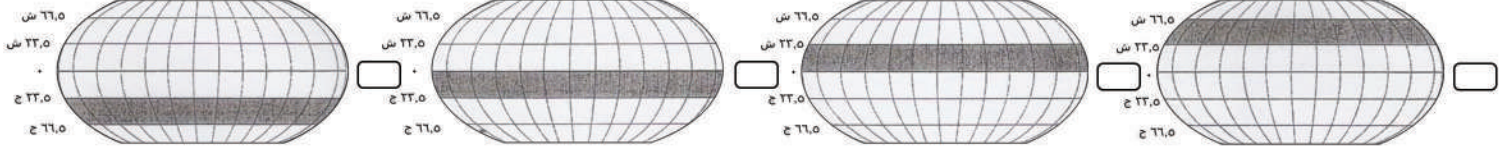
العوامل التي أسهمت في تنوع المناخ واختلاف الغطاء النباتي الطبيعي في عمان



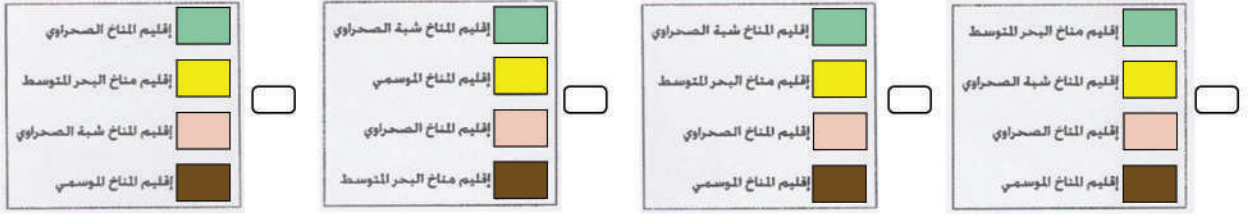
الطقس والمناخ

ظلل الشكل () المقترن بالإجابة الصحيحة من بين البدائل المعطاة :

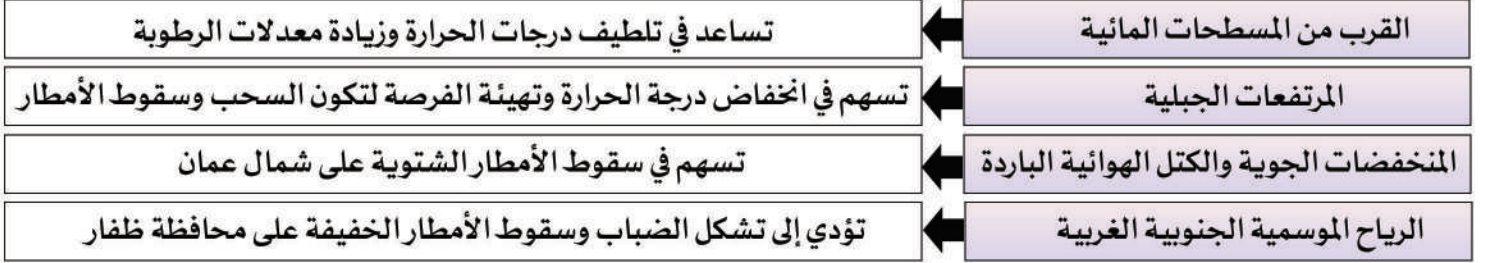
- الشكل الذي يمثل موقع عُمان الفلكي :



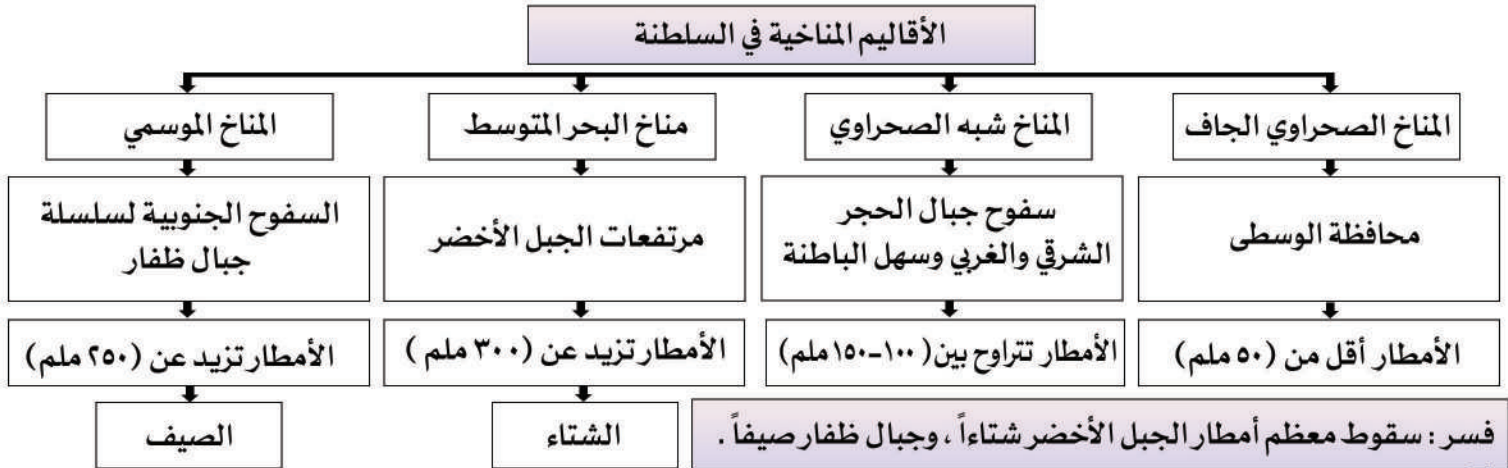
- أمامك خريطة تمثل الأقاليم المناخية في سلطنة عمان ، تأملها جيدا ، ثم اختر المفتاح المناسب لها :



أذكر العوامل التي أسهمت في تباين المناخ من مكان لآخر في السلطنة .



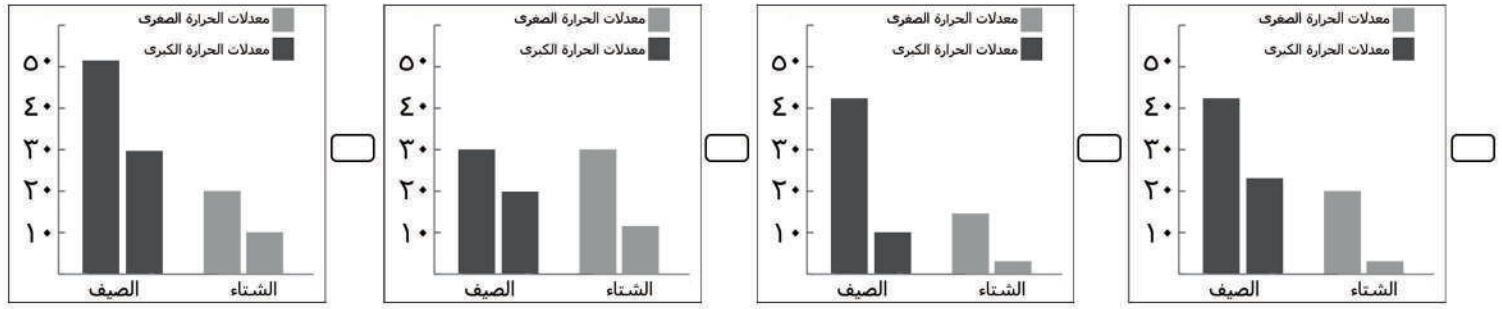
ارسم خريطة ذهنية تلخص فيها الأقاليم المناخية الموجودة في عمان من حيث المناطق التي يشملها كل إقليم وخصائصه المختلفة .



أمطار الشتاء في شمال عمان بسبب الكتل الهوائية الباردة والمنخفضات الجوية التي تعبر شرق البحر المتوسط وجنوب إيران
أمطار الصيف في جنوب عمان (ظفار) بسبب تأثرها بالرياح الموسمية الجنوبية الغربية القادمة من غرب المحيط الهندي

ظل الشكل () المقترن بالإجابة الصحيحة من بين البدائل المعطاة :

- التمثيل البياني الصحيح لمعدلات درجات الحرارة الصغرى والكبرى في عمان خلال فصلي الشتاء والصيف :



- تتراوح درجات الحرارة العظمى في عمان خلال شهري :

ديسمبر - فبراير ☐ مارس - مايو ☐ يونيو - سبتمبر ☐ أكتوبر - يناير ☐

أذكر أبرز العوامل التي أسهمت في ارتفاع درجات الحرارة في معظم أجزاء سلطنة عمان
 وقوع عمان ضمن المنطقة المدارية ومرور مدار السرطان على بعض محافظات السلطنة

فسر: اختلاف درجات الحرارة بين أقاليم عمان

اختلاف الفصول ☐ اختلاف الأقاليم ☐ عامل الارتفاع ☐ الرياح الموسمية ☐ طول السواحل ☐ القرب والبعد عن البحر ☐

فسر: ارتفاع متوسط درجة الحرارة صيفا في مدينة عبري، وانخفاضه في قيرن حيريتي .
 بسبب عامل الارتفاع باعتبار أن منطقة قرون حيريتي منطقة جبلية

ظل الشكل () المقترن بالإجابة الصحيحة من بين البدائل المعطاة :

الأمطار

- تتصف الأمطار التي تسقط على سلطنة عمان بأنها :

غزيرة منتظمة ☐ شحيحة منتظمة ☐ شحيحة غير منتظمة ☐ غزيرة غير منتظمة ☐


- يقدر الإجمالي السنوي للأمطار في الربع الخالي بحوالي :

٥٠ ملم ☐ ١٥٠ ملم ☐ ٢٥٠ ملم ☐ ٣٠٠ ملم ☐

أذكر العوامل المؤثرة في موسم سقوط الأمطار وكميتها في سلطنة عُمان .



انظر الشكل ثم أجب :



- اسم الظاهرة المناخية : الأعاصير المدارية

- تعرض السلطنة لهذه الظاهرة :

بسبب موقعها الجغرافي والفلكي لأنها تنشأ في المحيط الهندي وبحر العرب .

- الفترة الزمنية : ما بين شهري مايو ويونيو وشهري أكتوبر ونوفمبر .

الرياح

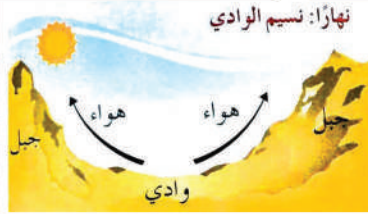
ظل الشكل () المقترن بالإجابة الصحيحة من بين البدائل المعطاة :

- تسمى الرياح التي تهب على مناطق معينة في مواسم محددة باسم الرياح :
☐ القطبية ☐ الإستوائية ☐ المحلية ☐ المدارية

الجدول الآتي يوضح الكتل الهوائية التي تؤثر على السلطنة :

الفترة الزمنية	الكتلة الهوائية	الرياح	مصدرها	المناطق التي تتأثر بها	تأثيرها
الشتاء	قطبية قارية	شمالية شرقية	وسط آسيا	شمال عمان	امطار على بعض سواحل بحر عمان
	قطبية بحرية	شمالية غربية	شمال المحيط الاطلسي	شمال عمان	امطار على المناطق الشمالية الغربية من عمان
الصيف	مدارية قارية	غربية	شمال أفريقيا	غرب وشمال غرب عمان	ارتفاع درجات الحرارة وعواصف ترابية
	مدارية بحرية	جنوبية غربية	المحيط الهندي وبحر العرب	جنوب عمان	الأمطار الموسمية

فسر: تتأثر سلطنة عمان بالرياح اليومية (نسيم البر والبحر، ونسيم الجبل والوادي) . بسبب امتدادها على مسطحات مائية وتنوع تضاريسها



ظل الشكل () المقترن بالإجابة الصحيحة من بين البدائل المعطاة :

الغطاء النباتي الطبيعي

- تم حصر عدد النباتات الطبيعية التي تنمو على أرض عمان بحوالي :

☐ ٢٥٩١ نوع

☐ ٢١٩٥ نوع

☐ ١٥٩٢ نوع

☐ ١٢٩٥ نوع

تنوع المناخ، ومظاهر السطح، وتنوع التربة

أذكر العوامل التي اسهمت في تنوع الغطاء النباتي الطبيعي بسلطنة عمان

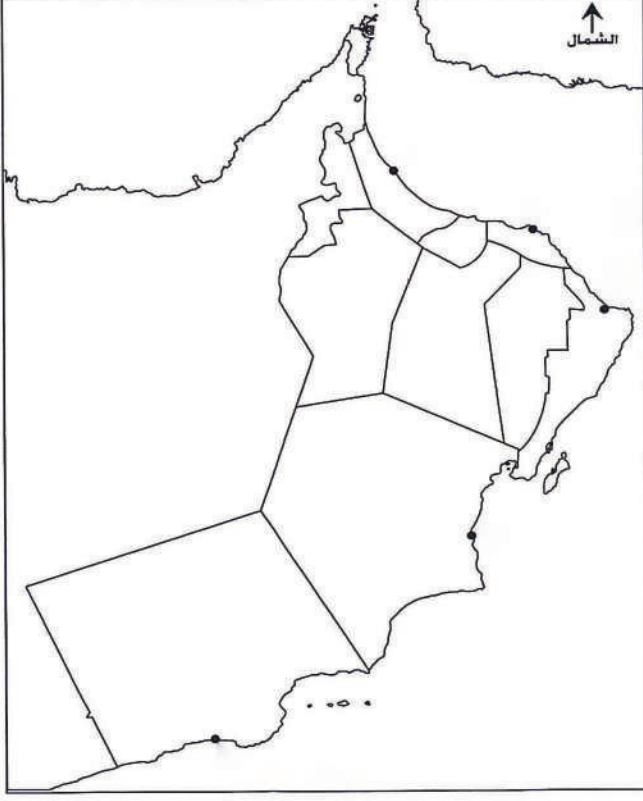
صنف النباتات الطبيعية التي تنمو في عمان حسب الأقاليم التي تنمو فيها :

الأقاليم	النباتات	الخصائص / الاستخدامات
نباتات السهول والواحات وبطون الأودية	الغاف	من أكبر الأشجار البرية المعمرة في عمان
	السدر	تنتشر في بطون الأودية وعلى جوانبها
	السمر	لها مردود اقتصادي حيث ينتج النحل الذي يتغذى على أزهارها أجود أنواع العسل
	السرح	تنمو في الوديان والمناطق السهلية وعلى سفوح التلال
نباتات الجبال والمرتفعات الصخرية	العلعلان	أشجار دائمة الخضرة عطرية الرائحة
	البوت	من الأشجار المثمرة الصالحة للأكل
	العتم (الزيتون البري)	تستخدم أخشابها في البناء نظر صلابتها.
نباتات الصحاري	الأراك	تكيفت مع الصحراء عن طريق امتصاص الندى بواسطة أوراقها
	اللبان	لها مردود اقتصادي مهم على مر العصور التاريخية
النباتات الملحية في الأقاليم الساحلية	المانجروف (القرم)	تنتشر في الأخوار
	الرمرام	يستخدم لمعالجة الجروح ووقف النزيف وعلاج الرمد، يستخدم منقوعه قديما لمعالجة لدغات الأفاعي والعقارب.
	الثرمد	تنمو في الرمال الساحلية



- صنف المشكلات التي تواجه الغطاء النباتي في سلطنة عمان في الجدول الآتي :

التصنيف	طبيعية	بشرية
المشكلات	تملح التربة - الجفاف - انجراف التربة	التوسع العمراني - قطع الاشجار - الرعي الجائر



- انظر الخريطة ثم أجب عن الأسئلة الآتية :

- اكتب على الخريطة اسم الولاية التي توجد بها حديقة النباتات والأشجار العمانية في موقعها الصحيح .

- ظلل المحافظة التي توجد بها محمية السليل الطبيعية .

- أكتب بحر عمان في موضعه الصحيح على الخريطة .

- فسر: إنشاء حديقة النباتات والأشجار العمانية.

ج- المحافظة على النباتات الطبيعية المعرضة للانقراض

ظلل الشكل () المقترن بالإجابة الصحيحة من بين البدائل المعطاة :

- توجد حديقة السليل الطبيعية في ولاية :

☐ السيب ☐ الكامل والوافي

☐ صور ☐ إبرا

- تم إعلان حديقة السليل الطبيعية كمحمية طبيعية عام :

☐ ١٩٩٥ ☐ ١٩٩٦

☐ ١٩٩٧

☐ ١٩٩٨

- من النباتات التي تضمها حديقة السليل الطبيعية :

☐ العلعلان والبوت ☐ الغاف والقرم


☐ السمر والسدر

☐ البوت والثرمد

استنتج العوامل التي تساعد على نمو النباتات في الجبل الأخضر وسلسلة جبال ظفار .

ج- اعتدال درجات الحرارة وزيادة الأمطار

صنف النباتات الواردة في الأشكال الآتية حسب الأقاليم التي تنمو فيها :



مسميات عُمان ... عبر الزمان

أذكر الآراء حول تسمية عمان بهذا الإسم

مشتقة من المعنى اللغوي وهو الاستقرار والإقامة

نسبة إلى سبأ بن يفتان

نسبة إلى قبيلة عمان القحطانية

نسبة إلى واد في اليمن يسمى عمان هاجر منه الأزدي

أذكر المسميات القديمة التي أطلقت على عمان

التسمية	الحضارة	الإقليم المشار إليه
مجان ماجان	السومرية البابلية	شمال عمان
مزون	الفارسية	شمال عمان
عمانه	الرومانية	شمال عمان



ما دلالة تعدد مسميات عمان عبر العصور التاريخية .

تنوع مسميات عمان دليل على قوة علاقاتها الخارجية

أسهم موقع عمان الجغرافي وانفتاحه على المحيط الهندي في تعزيز التواصل مع الأقاليم الحضارية المختلفة منذ القدم . وما زال دور عمان الحضاري في التواصل مع الدول الأخرى مستمرا حتى اليوم ، حيث تقوم السلطنة بدور فعال في تعزيز التبادل الثقافي والحضاري بين الشعوب .

للموقع الجغرافي دور مهم في نشأة الحضارة العمانية وتواصلها مع الحضارات الأخرى . وضح ذلك

تأمل الشكل ، ثم أجب عن ما يليه :




بطاقة تعريفية بشخصية تاريخية عمانية

اسم الشخصية	الملكة شمساء
الفترة الزمنية التي تربعت فيها عرش مجان	٤٠٠٠ سنة قبل الميلاد
الأوضاع الاقتصادية في عهدها	صراع اقتصادي دولي
علاقتها بالملك سرجون الأكادي ملك سومر وأكاد	ابرمت معه الملكة اتفاقية لصد الأطماع الخارجية المحيطة بعمان .

كتاب الطواف حول البحر الإريثري

(الملاحة والتجارة في المحيط الهندي بالقرن الأول للميلاد)


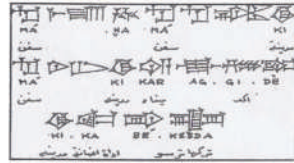


قوارب ماداراتا
الصبغ الأرجواني
والملابس ، والذهب

البضائع المصدرة من ميناء
(عمانا)
في العصور القديمة

فسر : إبرام الملكة شمساء اتفاقية مع الملك سرجون الأكادي (ملك سومر وأكاد) لصد الأطماع الخارجية في عمان

الشكل الصحيح الذي يمثل بعض الرموز والنقوش العمانية :



تعود المكتشفات التي يوضحها الشكل إلى العصر :



الحديث ☐

الحديدي ☐

البرونزي ☐

الحجري ☐

برهن : قيام مستوطنات بشرية وتجمعات سكانية في عمان في العصور القديمة ← اكتشاف العديد من المواقع الأثرية في عمان

علام يدل انتشار المواقع الأثرية في جميع محافظات السلطنة ← يدل على ثراء الحضارات التي قامت على أرضها

استعن بالخريطة ، ثم استخراج موقعا أثريا واحد لكل محافظة من محافظات السلطنة .



المحافظة	المواقع الأثرية
مسندم	مدحا
شمال الباطنة	صحار
جنوب الباطنة	وادي السحتن
مسقط	رأس الحمراء - الوطية
شمال الشرقية	سمد الشأن - الخشبة
جنوب الشرقية	قلهات - رأس الحد - رأس الجنز
الداخلية	سلوت
الظاهرة	بات - صيدة
البريمي	حفيت - قميراء
الوسطى	حج - غنيم
ظفار	شصر - كهوف ناطف - خور روري

قارن بين الأشكال التالية التي تمثل مواقع عمانية مدرجة في قائمة منظمة اليونسكو للتراث العالمي ، في الجدول الآتي :

الشكل	اسم الموقع	المحافظة / الولاية	الفترة الزمنية	المكتشفات ودلالاتها	سنة الإدراج
	بات	الظاهرة عبري	الألف ٣ ق.م	مدافن ذات بناء هندسي فريد تدل على : - التقدم المعماري في عمان قديما - وجود طقوس واعتقادات دينية لما بعد الموت	١٩٨٨ م
	قلهات	جنوب الشرقية صور	ق ١٣ م	مدينة أثرية - ضريح لها مكانة تاريخية	٢٠١٨ م

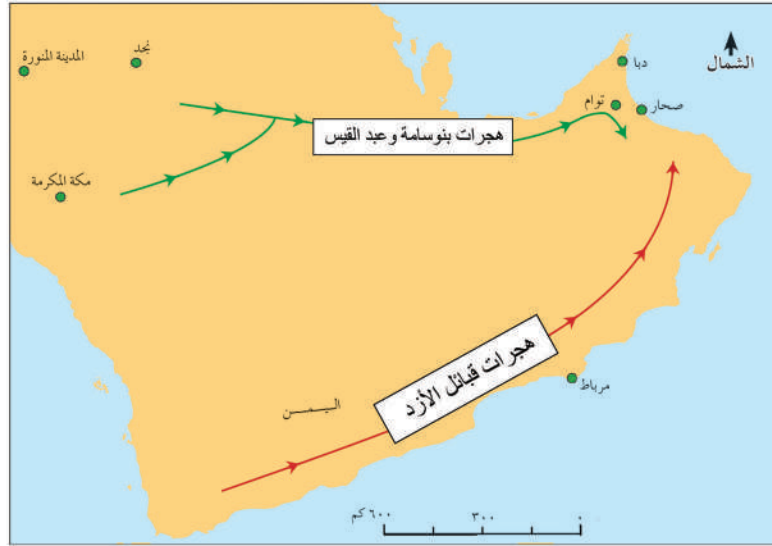
ظلل الشكل () المقترن بالإجابة الصحيحة من بين البدائل المعطاة :

- شكل قوة سياسية من القبائل العربية تمكن من خلالها طرد الفرس من عمان :

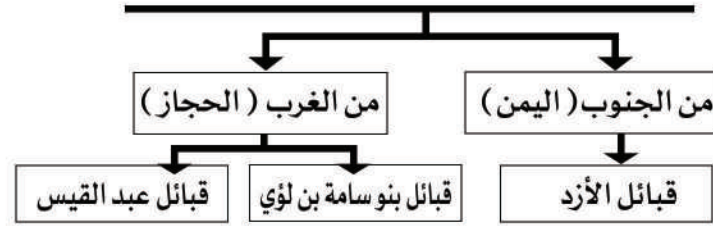
مازن بن غصوبة ☐ مالك بن فهم ☐ صبرة بن شيمان الحداني ☐ عمرو بن العاص ☐

- يقع فلج الملكي في محافظة :

شمال الشرقية ☐ مسقط ☐ جنوب الباطنة ☐ الداخلية ☐



أذكر أبرز الهجرات العربية التي استقبلتها عمان .



استنتج أثر هذه الهجرات على الحياة في عمان .

شكلت مع القبائل العربية التي كانت موجودة في عمان قوة سياسية تمكنت من طرد الفرس بقيادة مالك بن فهم الأزدي.

السياسية

الاقتصادية ☐ اسهمت هذه القبائل في إنعاش النشاط الاقتصادي، إذ قامت بشق الأفلاج كفلج الملكي في ولاية إزكي نسبة إلى مالك بن فهم

ظلل الشكل () المقتن بالإجابة الصحيحة من بين البدائل المعطاة :

شمس الإسلام تشرق على عُمان

- الشكل الموضح أمامك (١) يمثل إحدى رسائل الرسول (صلى الله عليه وسلم) إلى سكان منطقة :

السيب ☐ نزوى ☐ عبري ☐ صحار ☐

- الصحابي الذي حمل رسالة الرسول (صلى الله عليه وسلم) لأهل عمان :

مازن بن غصوبة ☐ مالك بن فهم ☐ صبرة بن شيمان الحداني ☐ عمرو بن العاص ☐

- ملكا عمان اللذان استلما رسالة الرسول (صلى الله عليه وسلم) المشار إليها بالرقم (٢) :

الوارث بن كعب ☐ الصلت بن مالك ☐ غسان بن عبدالله ☐ عبد وجيفر أبناء الجلندي ☐

دور العمانيين في الفتوحات الإسلامية

أذكر الوفود أهل عمان إلى الرسول (صلى الله عليه وسلم) في الجدول الآتي :

الوفد	القبيلة	نص رسالة الرسول (صلى الله عليه وسلم)
عبدالله بن علس الثمالي	ثمالة	هذا كتاب من محمد رسول الله لبداية الأسياف ونازلة الأجواف مما حازت صحار
مسلية بن هزان الحداني	الحدان	من محمد رسول الله إلى من يقرأ كتابي هذا، ممن شهد أن لا إله إلا الله وأن محمدا رسول الله وأقام الصلاة، فله أمان الله وأمان رسول الله.
يبرح بن أسد الطاحي		

شاركوا في فتح بلاد فارس، وبلاد الشام، ومصر





ظلل الشكل () المقترن بالإجابة الصحيحة من بين البدائل المعطاة :

- تعرضت عمان نتيجة فترات الضعت التي مرت بها عمان في عصرهم للغزو البرتغالي :

البويهيين ☐ النباهنة ☐ القرامطة ☐ السلاجقة ☐

- الفترة الزمنية للخلافة الأموية :

(٤١هـ-١٣٢هـ) ☐ (٤٠هـ-١٧٧هـ) ☐ (١٧٧هـ-٢٨٠هـ) ☐ (١٣٢هـ-٦٥٦هـ) ☐

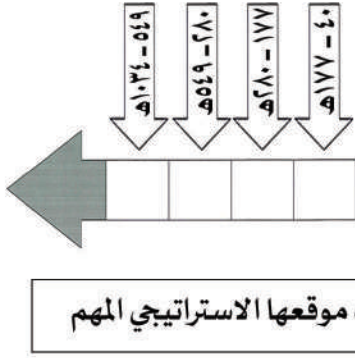
- الفترة الزمنية للخلافة العباسية :

(٤٠هـ-١٧٧هـ) ☐ (١٧٧هـ-٢٨٠هـ) ☐ (١٣٢هـ-٦٥٦هـ) ☐ (٥٤٩هـ-١٠٣٤هـ) ☐

- الشكل الصحيح للفترات الزمنية التي حضيت فيها عمان باستقلال كامل في حكمها وإدارتها :

١٧٧-٤٠هـ	الإمامة الإباضية الأولى	١٧٧-٤٠هـ	عصر النباهنة	١٧٧-٤٠هـ	الإمامة الإباضية الأولى
٢٨٠-١٧٧هـ	الإمامة الإباضية الثانية	٢٨٠-١٧٧هـ	قيام حكم مستقل	٢٨٠-١٧٧هـ	الإمامة الإباضية الثانية
٥٤٩-٢٨٠هـ	قيام حكم مستقل	٥٤٩-٢٨٠هـ	عصر النباهنة	٥٤٩-٢٨٠هـ	قيام حكم مستقل
١٠٣٤-٥٤٩هـ	قيام حكم مستقل	١٠٣٤-٥٤٩هـ	الإمامة الإباضية الثانية	١٠٣٤-٥٤٩هـ	عصر النباهنة

أكتب على الخط الزمني رموز العبارات الآتية :



- أ- فترة تأسيس الإمامة الإباضية الأولى، والحفاظ على استقلالية عمان .
- ب- عصر النباهنة الذي تفاوت بين القوة والضعف، وقدم الغزو البرتغالي.
- ج- قيام حكم عماني مستقل تحلله سيطرة لبعض القوى الأجنبية
- د- الإمامة الإباضية الثانية في عمان، فترة استقلال وبناء.

فسر : سعي القوى الاجنبية للسيطرة على عمان قديما

بنو وجيه
القرامطة
البويهيين

ظلل الشكل () المقترن بالإجابة الصحيحة من بين البدائل المعطاة :

عُمان فكر واستقلال

- تمكنت الدولة الأموية من بسط نفوذها على عمان على عمان عام :

٤١هـ ☐ ٨١هـ ☐ ١٣٢هـ ☐ ٦٥٦هـ ☐

- استعاد العمانيون سيطرتهم على حكم بلادهم من الأمويين عام :

٤١هـ ☐ ٨١هـ ☐ ١٣٢هـ ☐ ٦٥٦هـ ☐

- دعم إمامة أبي اسحاق ابراهيم بن قيس الحضرمي في اليمن ، وتمكن من توحيد عمان وطرد البويهيين منها ، الإمام :

عزان بن عبدالله اليعمدي ☐ الصلت بن مالك الخروصي ☐

سعيد بن عبدالله الرحيلي ☐ راشد بن سعيد اليعمدي ☐

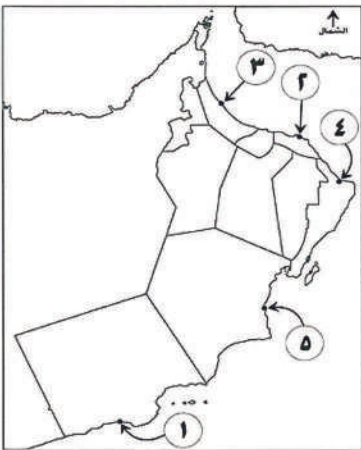
- الإمام الذي انتصر على يوسف بن وجيه والي العباسيين على صحار :

عزان بن عبدالله اليعمدي ☐ الصلت بن مالك الخروصي ☐

سعيد بن عبدالله الرحيلي ☐ راشد بن سعيد اليعمدي ☐

- الرقم الذي يشير إلى المدينة التي كان يوسف بن وجيه واليا من قبل العباسيين عليها :

١ ☐ ٢ ☐ ٣ ☐ ٤ ☐



أذكر أبرز الانجازات العلمية التي تحققت لعمان خلال فترات استقلالها

ألف العلامة أحمد بن عبدالله الكندي (٥٥٧هـ)
موسوعته «المصنف في الأديان والأحكام»
في (٤٢) مجلداً.

ألف العلامة محمد بن إبراهيم الكندي (٥٠٨هـ)
موسوعته «بيان الشرع»
في (٧٢) مجلداً

(ظلت عمان دولة مستقلة في أغلب تاريخها)
دلل على صحة هذه العبارة من خلال كتابات الجغرافيين عن عمان

الإدريسي :
وبلاد عمان مستقلة بذاتها عامرة بأهلها
كتابه : نزهة المشتاق

ابن حوقل :
بأنها : عمان ناحية ذات أقليم، مستقلة بأهلها
كتابه : صورة الأرض

الاصطخري :
بأنها: مستقلة بأهلها كثيرة النخيل والفواكه
كتابه : مسالك الممالك



جزيرة
سقطرى



جزيرة قنبلو
(مدغشقر)

الأسطول العماني ... أدوار حضارية

أذكر انجازات الاسطول العماني خلال الفترات التاريخية الآتية :

الفترة الزمنية	الإمام	انجاز الاسطول العماني	نوع السفن المستخدم
١٩٢-٢٠٧هـ	غسان بن عبدالله اليعمدي	القضاء على القراصنة، وتصفية بحر عمان وبحر العرب من بوارح الميّد	سفن الشذاة
٢٧٠هـ	الصلي بن مالك الخروصي	طرد النصارى من جزيرة سقطرى عندما استغاث أهلها به	سفن البوصي
٣٥٥هـ	تمكن الأسطول العماني من هزيمة البويهيين الذين حاولوا احتلال عمان عام		

ظل الشكل () المقترن بالإجابة الصحيحة من بين البدائل المعطاة :

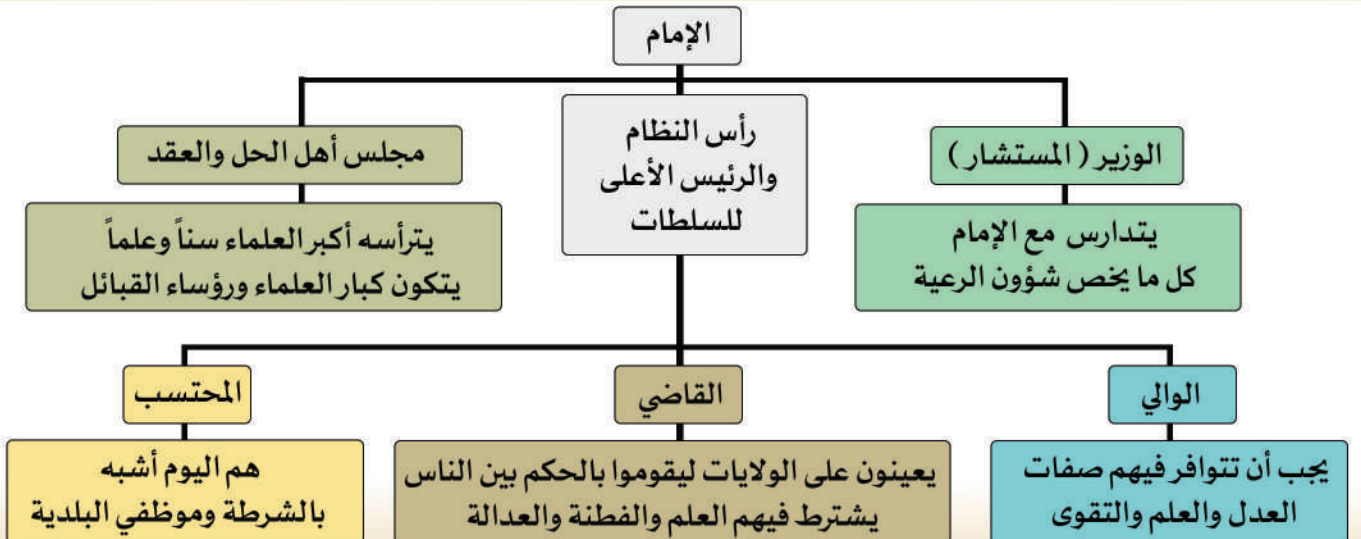
- أشهر قادة الأسطول العماني زمن الإمام عزان بن تميم (٢٧٧-٢٨٠) :

أحمد بن ماجد ☐ عزان بن الهزير ☐
سلطان بن سيف ☐ سعيد بن سلطان ☐

المفاهيم

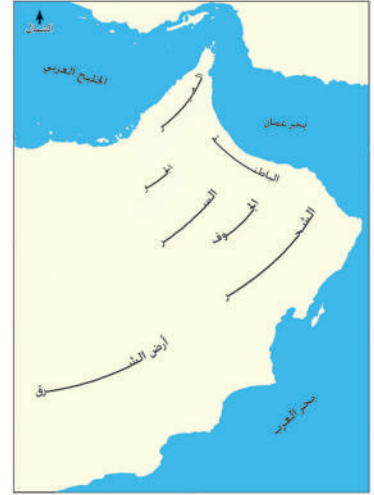
عمان ... نظام إداري محكم

انظر الشكل التالي الذي يمثل النظام الإداري لعمان في العصور الإسلامية الاختصاصات والشروط الواجب توافرها في النظام



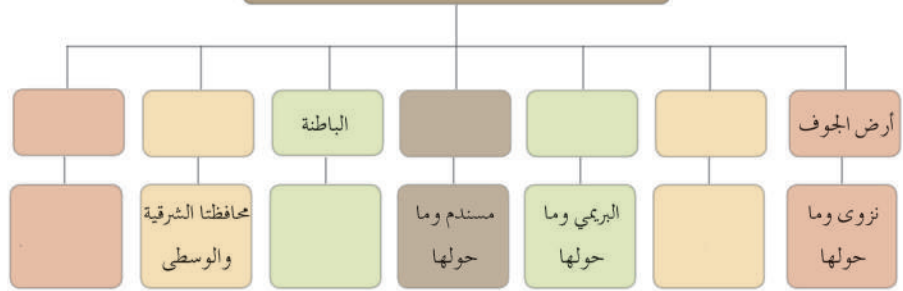
ظلّل الشكل () المقترن بالإجابة الصحيحة من بين البدائل المعطاة :

- الشكل الصحيح للتقسيم الإداري لعمان في العصور الإسلامية :



أكمل الشكل الآتي ، ثم قم بتوزيع التقسيم الإداري على الخريطة المقابلة :

التقسيم الإداري لعمان في العصور الإسلامية



القوة الاقتصادية العُمانية ... المسكوكات والعملات

أبرز المنتجات التي تاجر بها العمانيون في العصور الإسلامية

حجر الديورايت - النحاس - اللبان - التمور

ما النتيجة المترتبة على ازدهار النشاط الاقتصادي العماني في العصور الإسلامية

سك العديد من العملات النقدية في عمان في الفترة من القرن الثالث وحتى السادس الهجري

ما النتيجة المترتبة على وقوع عمان تحت سيطرة بعض القوى الأجنبية

سكوا عدداً من العملات النقدية

في عام ٢٠٠٣م اكتشف مجموعة من المسكوكات النقدية في مدينة بهلا يرجع تاريخها إلى العصور الإسلامية، منها دراهم سكّت في عهدي الإمام

الخليل بن شاذان الخروصي
٤٤٧ - ٤٦٤هـ

راشد بن سعيد اليعمدي
٤٢٥ - ٤٤٥هـ

أمثلة على القوى الأجنبية التي سكّت النقود في عمان

بنو جيهة القرامطة البويهيين بنو مكرم





المجتمع العماني



مرتكزات المجتمع العماني



- ظلل الشكل () المقترن بالاجابة الصحيحة من بين البدائل المعطاه :

- المرتكز الذي يقوم على فهم تراث الوطن واحترامه والحفاظ على منجزاته وتطوير ثقافته واستثمار اقتصاده :

القانون ☐ العادات والتقاليد ☐ اللغة العربية ☐ الوحدة الوطنية ☐

- بين أهمية المرتكزات التي يقوم عليها المجتمع العماني .

ج- أسهمت مرتكزات المجتمع العماني في تكوين طريقة حياة العماني ين ، وفي تنظيم علاقاتهم وتفاعلاتهم الاجتماعية ، كما أسهمت في بناء الشخصية العمانية وشكلت سمات المجتمع وخصائصه وهويته التي تميزه عن غيره من المجتمعات .

- ما النتيجة المترتبة على اعتماد المجتمع العماني على العديد من المرتكزات في بناءه .

أدى ذلك إلى استقرار المجتمع وتطوره عبر العصور

المفاهيم : الأعراف : هو ما تعارف عليه الناس في عاداتهم ومعاملاتهم ، كأن يعتاد الناس على سلوك أو فعل بعينه .

العادات والتقاليد : مجموعة الممارسات التي توارثها أفراد المجتمع من الأجيال السابقة .

سمات الشخصية العُمانية

الاعتزاز بالهوية العُمانية

تحمل المسؤولية
وأداء الواجبات

التمسك بالمبادئ والقيم
الاجتماعية

احترام الآخرين

- وضح كيف أثرت سمات الشخصية العمانية على الحياة في المجتمع العماني والأقاليم التي وصل إليها العمانيون

ج- أثرت بحسن الخلق وحسن التعامل مع الآخرين، ولذلك فإن ما يمتلكه الإنسان العماني من سمات في شخصيته جعلته جيداً فيما يقوم به من أعمال وما يمارسه من قيم إنسانية.

- تصدرت صورة حضرة صاحب الجلالة السلطان قابوس بن سعيد المعظم حفظه الله ورعاه غلاف المجلة الواضحة امامك ' تأملها ثم أكمل الجدول الآتي :



اسم المجلة	«مجلة المجتمع والدبلوماسية Society and Diplomatic Review»
الجهة الصادرة	تصدر عن الأمم المتحدة
العام	٢٠١٦ م
الموضوع	الإعجاب بالأنظمة السياسية والاجتماعية في السلطنة، وبمستوى التألف والمحبة والانسجام بين جلالة السلطان وأبناء شعبه.

- صدر قانون المؤسسات الوقفية من قبل
وزارة الأوقاف والشؤون الدينية عام ٢٠١٥ م

مقومات التفاعل الاجتماعي

التفاعل بين الفرد والمجتمع

الجغرافية

المكان الواحد

التاريخية

التاريخ الواحد

الاقتصادية

الأنشطة
الاقتصادية
المشتركة

الاجتماعية

التقارب الأسباب
منها:
المصاهرة، والنسب

الثقافية

الثقافة الواحدة بما
تشمله من أفكار
وعادات وتقاليد
مشتركة

- تعتبر مؤسسة جابر بن زيد الوقفية إحدى صور الوقف في الوقت الحاضر وهي تعمل على تعزيز الشراكة بين العمل الوقفي والمجتمع .

وضح صور التفاعل الاجتماعي في الجدول الآتي :

أمثلة	المفهوم	الصور
أوقاف المساجد أوقاف التعليم	هي تخصيص شيء من ممتلكات أصحاب الخير الميسورين لإنفاق عوائدها في أوجه الخير المخصص لها، وهي صدقة جارية للموقف، كما أنها ذات فائدة اقتصادية ومعنوية للموقوف له وللمجتمع بشكل عام	الأوقاف
رعاية المرضى، ومساعدة المعسرین، والتبرع بالدم	هي مشاركة الأفراد في الأعمال التي يقوم بها المجتمع ممثلاً في جهة حكومية أو أهلية بما يحقق مصلحة للمجتمع في شيء معين دون الحصول على منفعة مادية للمتطوع	الأعمال التطوعية

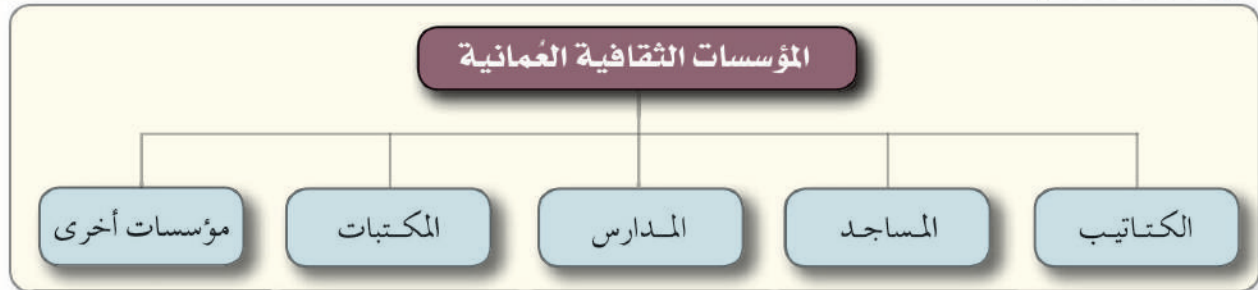


الوحدة الثانية: المجتمع العُماني بين الأصالة والمعاصرة

إعداد معلمو الدراسات الاجتماعية بمدرسة السلطان قابوس للتعليم ما بعد الأساسي



المؤسسات الثقافية العمانية بين الماضي والحاضر



- علام يدل تعدد المؤسسات الثقافية العمانية .

ج- دليل على اهتمام العمانيين بالثقافة والحضارة .

هو المكان الذي يتلقى فيه الطلبة تعليمهم ، ويسمى في عمان باسم المكتب أو مدرسة القرآن الكريم

١. الكتاتيب

- تتبع تطور الكتاتيب من حيث المكان والمواد التي تدرس فيها في الجدول الآتي :

المواد	المكان
تعلم القراءة والكتابة والقرآن الكريم ثم أدخلت مواد أخرى مثل: أركان الإسلام، وقواعد اللغة العربية، والخط العربي، وفي الوقت الحاضر : الفقه، والعقيدة، والنحو.	غرفة من بيت المعلم أو تحت ظل الشجر، ثم أصبحت تقام في المجلس العام (السبلة) ، في الوقت الحاضر : مبان خاصة تسمى : مدارس القرآن الكريم.

- صنف وظائف المسجد في الجدول التالي :

٢. المساجد

اجتماعية	ثقافية	دينية
مكان للاجتماعات والمناسبات	مركز للتثقيف والتعليم نسخ الكتب ونشرها	مكان للعبادة

ظلل الشكل () المقترن بالإجابة الصحيحة من بين البدائل المعطاة :

- إنشاء مسجد المضمار الموضح في الشكل في محافظة الداخلية على يد الصحابي مازن بن غضوبة في ولاية :



بها ☐

إزكي ☐

سمائل ☐

نزوى ☐

- الجهة التي تشرف على المعاهد الدينية والمكتبات، التي ألحقت بجوامع السلطان قابوس :

وزارة التعليم العالي ☐

مركز السلطان قابوس العالي للثقافة والعلوم ☐

وزارة التربية والتعليم ☐

وزارة الأوقاف والشؤون الدينية ☐

- دلة : ظهور المدارس في عمان منذ فترة مبكرة من العصر الإسلامي .

٣. المدارس

الولاية - المحافظة	الفترة الزمنية	المدرسة	مدارس العلماء
بها (الداخلية)	القرن الرابع الهجري	مدرسة ابن بركة	مدارس العلماء
مرباط (ظفار)	القرن السادس الهجري	مدرسة محمد بن علي باعلوي	
بها (الداخلية)	القرن الثاني عشر الهجري	مدرسة عائشة الريمية	
خصب (مسندم)	القرن الثاني عشر الهجري	ومدرسة محمد بن كمال بن أحمد	
بها (الداخلية)	عهد الإمام بلعرب بن سلطان	مدرسة حصن جبرين	المدارس الرسمية

تضم سكناً للمعلمين والطلبة، ومسجداً ومكتبة، وتدرس فيها علوم شتى مثل: الآداب وال لغة والفقه والحقوق والتاريخ والفلك والطب

- دلة بمثال على : استمرارية الدور الذي تقوم المدارس التقليدية التي عرفت بأسماء العلماء حتى وقتنا الحاضر .

ج- مدرسة الشيخ حمود بن حميد الصوافي بسناو في محافظة شمال الشرقية.

الجدول التالي يوضح المدارس العمانية قبل عهد النهضة المباركة :

العهد	الفترة الزمنية	المدارس
السلطان تركي بن سعيد	١٨٧١-١٨٨٨م	مدرسة مسجد الخور - مدرسة الزواوي
السلطان فيصل بن تركي	١٨٨٨-١٩١٣م	مدرسة مسجد الوكيل بمسقط
السلطان تيمور بن فيصل	١٩١٣-١٩٣٢م	مدرسة الشيخ راشد بن عزيز الخصيبي - المدرسة السلطانية الأولى
السلطان سعيد بن تيمور	١٩٣٢-١٩٧٠م	المدارس السعيدية (صلالة، مسقط، مطرح) - مدرسة الغزالي في صور، مدرسة السيد نادر بن فيصل

٤. المكتبات

قارن بين المكتبات العامة والمكتبات الخاصة في الجدول الآتي :

نوع المكتبة	المفهوم	أمثلة عليها	الفترة الزمنية	الولاية - المحافظة
العامة	هي التي تنشئها الدولة	مكتبة حصن الرستاق مكتبة حصن جبرين	الدولة اليعربية	الرستاق - جنوب الباطنة بها - الداخلية
الخاصة	هي التي تنشأ من قبل الأهالي والعلماء والأعيان وأثرياء.	مكتبة مدرسة آل الرحيل مكتبة أحمد بن النضر مكتبة الشيخ محمد بن مسعود	عصر الإمامة الثانية عصر النباهنة الدولة البوسعيدية	صحار - شمال الباطنة سمائل - الداخلية منح - الداخلية


- دلة : استمرار العمانيون بإنشاء المكتبات في الوقت الحاضر على المستويين الرسمي والأهلي .

على مستوى الدولة	على المستوى الأهلي
مكتبة حصن الشموخ - مكتبة جامع السلطان قابوس الأكبر مكتبة الأطفال العامة - مكتبة المعرفة	مكتبة السيد محمد بن أحمد البوسعيد بالسيب ومكتبة دار الكتاب العامة بصلالة



الوحدة الثانية: المجتمع العماني بين الأمانة والمعاصرة


إعداد معلمو الدراسات الاجتماعية بمدرسة السلطان قابوس للتعليم ما بعد الأساسي

الولاية - المحافظة	سنة الافتتاح	فترة الإنشاء	مكتبة وقف الحمراء	
ولاية الحمراء محافظة الداخلية	١٩٩٦ م	يعود تاريخ إنشائها إلى عهد الإمام سلطان بن سيف الأول		

٥. مؤسسات ثقافية أخرى

- صنف المؤسسات الثقافية الآتية إلى مؤسسات حكومية وأخرى أهلية في الجدول الآتي :

المؤسسة	الإنشاء	الأهداف	المؤسسات الحكومية
النادي الثقافي	١٩٨٣ م	يسعى لتوثيق الروابط بين المشتغلين بالثقافة والفكر وإقامة الندوات والمحاضرات	
المنتدى الأدبي	١٩٨٥ م	مهمته تنظيم الأنشطة الثقافية كالأُمسيات، والندوات التي تغنى بالمدن العمانية والعلماء والأدباء العمانيين .	
النادي العلمي	١٩٨٩ م	يهدف نشر الثقافة العلمية، واكتشاف المواهب وتوجيهها .	
دار الأوبرا السلطانية (مسقط)	٢٠١١ م	تسهم في تعزيز الجانب الثقافي .	
مجمع السلطان قابوس للثقافة والترفيه (صلالة)	٢٠١٦ م	النهوض بالفكر والثقافة والفنون في محافظة ظفار وتوفير وسائل الترفيه والتثقيف السليمة للشباب .	المؤسسات الأهلية
مركز ذاكرة عمان	٢٠١٣ م	واهتم بالخطوط العمانية حفظاً وفهرسة وتنقيحاً ونشراً.	



نماذج من المؤسسات الثقافية العمانية

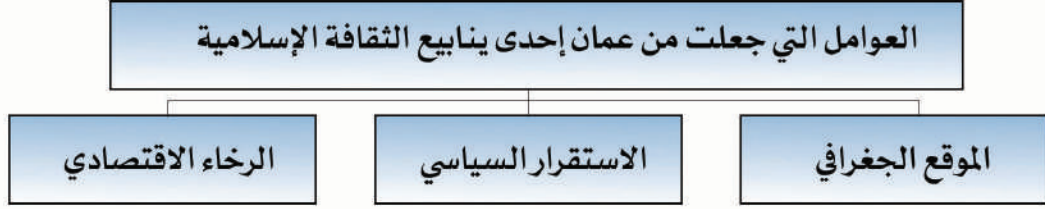


الوحدة الثانية: المجتمع العُماني بين الأصالة والمعاصرة

إعداد معلمو الدراسات الاجتماعية بمدرسة السلطان قابوس للتعليم ما بعد الأساسي



الإسهامات الثقافية والمحاضرة العمانية



- وضح اسهامات العمانيين في إثراء الثقافة الإسلامية .

ج- اسهموا من خلال تأليف الكثير من المؤلفات في مجالات متعددة ، منها الموسوعية التي تحتوي الكثير من الأجزاء، كما أسهمت المرأة العمانية في العلوم والثقافة ، فكانت أدوارهن بارزة في التأليف ونسخ الكتب .

- أذكر أبرز المراكز الثقافية في عمان . ← صحار ونزوى وإزكي وبهلا والريستاق ومرباط

- فسر : اختيار مدينة نزوى عاصمة للثقافة الإسلامية لعام ٢٠١٥ م . ← نظر لمكانتها الثقافية .

الإسهامات العمانية في العلوم المختلفة

الجدول الآتي يوضح الاسهامات الثقافية العمانية في المجالات المختلفة :


المجال	اسم العالم	الفترة الزمنية	أشهر مؤلفاته
الشرعية الإسلامية	الربيع بن حبيب الفراهيدي	ق ٢ هـ	مسند الربيع ويسمى (الجامع الصحيح)
	درويش بن جمعة المحروقي	ق ١١ هـ	الدلائل في اللوازم والوسائل
التاريخ	سلمة بن مسلم العوتبي	ق ٥ هـ	الأنساب
	سرحان بن سعيد الأزكوي	ق ١١ هـ	كشف الغمة الجامع لأخبار الأمة
اللغة والأدب	الخليل بن أحمد الفراهيدي	ق ٢ هـ	معجم العين
	أبو بكر محمد بن الحسن بن دريد الأزدي	ق ٣ هـ	الجمهرة
الطب	راشد بن عميرة بن ثاني الريستاق	ق ٩ هـ	فاكهة ابن السبيل
	علي بن عامر النزوي	ق ١١ هـ	ضياء البرهان في شفاء الأبدان
الفلك	عمر بن مسعود بن ساعد المنذري	ق ١٢ هـ	كشف الأسرار المخفية في علم الأجرام والرقوم السماوية
	خميس بن سالم الهاشمي	ق ١٣ هـ	رسالة في علم الفلك للمبتدئين
العلوم البحرية	أحمد بن ماجد السعدي	ق ٩ هـ	الفوائد في أصول علم البحر والقواعد
	ناصر بن علي الحضوري	ق ١٤ هـ	معدن الأسرار في علم البحار

الاسم : العلامة نور الدين عبدالله بن حميد السالمي



عدد المؤلفات : ما يزيد على اثنين وعشرين كتاباً

المجالات التي ألف فيها : العلوم الشرعية، واللغة، والتاريخ .

أهميته : تم إدراجه ضمن برنامج الذكرى المئوية للأحداث التاريخية المهمة والشخصيات المؤثرة عالمياً لليونسكو ٢٠١٠م.



نماذج من المؤلفات العمانية



الإسهامات العمانية في مجال العمارة

علام يدل تطور العمارة العمانية منذ القدم ← يدل على التطور الحضاري الذي شهدته عمان عبر تاريخها

أذكر أبرز المواد المستخدمة في العمارة العمانية القديمة



أذكر العوامل التي ساعدت على تطور العمارة العمانية .

توفر الموارد الطبيعية اللازمة في العمارة.

المناظر الخلابة والجميلة للطبيعة العمانية .

الانفتاح الثقافي والتواصل الحضاري للعماني بين منذ القدم.



محراب مسجد العونية بوادي بني خالد



حصن جبرين



نماذج من العمارة العمانية في الجدول الآتي :

نوع العمارة	مميزاته	الاستخدام
القلاع والحصون القصور	وجود الأسوار العالية والأبراج	للحماية والمراقبة
	وجود متاريس	عبارة عن حواجز بها فتحات لإطلاق النار
	فتحات على المداخل	الصب الدبس أو الزيت المغلي على الأعداء
	زخرفة السقوف بالأشكال الهندسية والنباتية أو بالكتابة عليها	
	الاهتمام بأشكال النوافذ والأبواب فظهر فن المشربيات والقمریات .	
المساجد	تميز ببساطة البناء	
	وجود قبة صغيرة تسمى البومة	بها فتحة للوصول إلى سطح المسجد
	الصرح	وهو الفناء الخارجي لمسجد
	الأعمدة والأقواس	تميز بعضها بالنقوش المختلفة
	المحاريب	جامع سعال بنزوى وقد أרך محرابه سنة ٦٥٠هـ / ١٢٥٢م ومسجد العوينة بوادي بني خالد

قارن بين المشربيات والقمریات في الجدول الآتي :

المقارنة	المفهوم	المواد المستخدمة في الصناعة
المشربيات	هي نقوش في الأقواس الموجودة أعلى النوافذ والأبواب	الجبس أو الخشب الصلب
القمریات		الحجر أو الرخام أو الجص

إسهامات المرأة العمانية الثقافية

نماذج النساء العمانية اللاتي أسهمن في الحركة الثقافية بعمان :

ق ١٤هـ

فاطمة بنت ناصر الغيلانية

- هاجرت إلى المدينة المنورة
- ملمة بالأحكام الشرعية
- حافظة للأحاديث النبوية
- كان مجلسها عامرا في المدينة المنورة
- ظلت مرجعا علميا للنساء في مدينة صور

ق ١٥هـ

عائشة بنت عيسى الحارثية

- فقيهة وأديبة
- كتبت الشعر
- لها قصائد :
- في رحلة الحج
- المرأة في ميزان الإسلام
- قصائد في السلوك
- كتاب من أيامي

ق ١٤هـ

شمساء بنت سعيد الخليلية

- عالمة جليلة
- أديبة
- فقيهة
- كانت مرجعا لأهل عصرها

ق ١٢هـ

عائشة بنت راشد الريمية

- فقيهة ومربية
- أنشأت مدرسة في بهلا
- قامت بالتدريس فيها
- تخرج على يدها عدد من العلماء
- أنشأت مكتبة وجعلتها وقفا

أمثلة على شخصيات عمانية

الشخصية العمانية	الفترة الزمنية	أعماله
الملكة شمساء	٤٠٠٠ ق.م	تمكنت من إبرام اتفاقية مع الملك سرجون الأكادي لصد الاطماع الخارجية في عمان
الإمام راشد بن سعيد اليعمدي	٤٢٥-٤٤٥ هـ	تمكن من توحيد عمان وطرد البويهيين ، له علاقة خارجية مع اليمن ومدينة المنصورة في بلاد السند ، تم اكتشاف عملات نقدية في مدينة بهلا تعود الى عهده
الإمام سعيد بن عبدالله الرحيلي	٣٢٠-٣٢٨ هـ	انتصر على والي العباسيين في صحار (يوسف بن وجيه)
الإمام غسان بن عبدالله اليعمدي	١٩٢-٢٠٧ هـ	القضاء على القراصنة وتصفية بحر عمان وبحر العرب من بوارج الميد مستخدماً سفن الشداة
الإمام الصلت بن مالك الخروصي	٢٧٥ هـ	نجدة أهل سقطرى وطرد النصارى من الجزيرة مستخدماً سفن البوصي
الإمام الخليل بن شادان الخروصي	٤٤٧-٤٦٤ هـ	تم اكتشاف عملات نقدية في مدينة بهلا تعود الى عهده
الإمام بلعرب بن سلطان اليعربي		انشأ مدرسة حصن جبرين
الإمام سلطان بن سيف الأول اليعربي		يعود إنشاء مكتبة وقف الحمراء الى عهده
مازن بن غضوية		التقى بالرسول (صلى الله عليه وسلم) قام ببناء مسجد المضمار في ولاية سمائل في الداخلية
جابر بن زيد الأزدي		من أوائل الذين ألفوا في الإسلام
العلامة نور الدين عبدالله بن حميد السالمي		أحد العلماء الموسوعيين (العلماء الذين برعوا في عدد من فنون العلم)
العلامة محمد بن ابراهيم الكندي	٥٠٨ هـ	أحد العلماء الموسوعيين ألف موسوعته الضخمة (بيان الشرع) في ٧٢ مجلداً
العلامة أحمد بن عبدالله بن موسى الكندي	٥٥٧ هـ	أحد العلماء الموسوعيين ألف موسوعته الكبرى (المصنف في الأديان والاحكام) في ٤٢ مجلداً
صبرة بن شيمان الحداني		كان على رأس الأزدي في جيش عثمان بن أبي العاص الذي خرج من عمان لفتح بلاد فارس
مالك بن فهم الأزدي		وحد القبائل ضد الفرس ، شق فلج الملكي في ولاية إزكي في الداخلية
عبدالله بن علس الثمالي		تزعّم وفد قبيلته (ثمالة) عندما وفدوا الى رسول الله .
مسلية بن هزان الحداني		تزعّم وفد قبيلته (الحدان) عندما وفدوا الى رسول الله .
أبو صفرة الأزدي		كان خطيباً مفوهاً

سلطنة عُمان (طبيعية)



سلطنة عُمان (مواقع المحميات الطبيعية)



عزيزي الطالب :
هذا الملخص لا يغنيك عن الكتاب المدرسي
{ وفقكم الله }

